

PARQUE DEL AGUA - RECORRIDO 2 - Parque del agua al detalle

Pon el número que corresponda en el recuadro superior y di en qué elemento del parque te encuentras

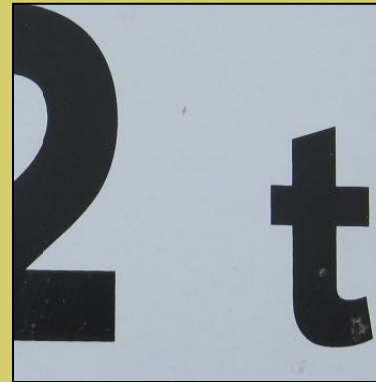
1




8



3



4




5



2



7



6

